



Proba de

Código

CMPS003

Ciencias sociais

Parte sociolingüística. Ciencias sociais



1. Formato da proba

Formato

- A proba consta de vinte cuestións tipo test.
- As cuestións tipo test teñen tres posibles respostas, das que soamente unha é correcta.

Puntuación

- Puntuación: 0'50 puntos por cuestión tipo test correctamente contestada.
- Cada cuestión tipo test incorrecta restará 0'125 puntos.
- As respostas en branco non descontarán puntuación.
- No caso de marcar máis dunha resposta por pregunta considerarase como unha resposta en branco.

Duración

- Este exercicio terá unha duración máxima de: 40 minutos.

Materiais e instrumentos que se poden empregar durante a proba

- Bolígrafo con tinta negra ou azul.



2. Exercicio

1. Marque o conxunto de frases que conteña toda a información correcta.

Marque el conjunto de frases que contenga toda la información correcta.

A Conxunto A

Conjunto A

- Coa Revolución Industrial aumentou a taxa de mortalidade.
Con la Revolución Industrial aumentó la tasa de mortalidad.
- Coa Revolución Industrial mantívose un índice de natalidade elevado.
Con la Revolución Industrial se mantuvo un índice de natalidad elevado.
- A Revolución Industrial principiou en Inglaterra co desenvolvemento do téxtil.
La Revolución Industrial se inició en Inglaterra con el desarrollo del textil.

B Conxunto B

Conjunto B

- Coa Revolución Industrial descendeu a taxa de mortalidade.
Con la Revolución Industrial descendió la tasa de mortalidad.
- Coa Revolución Industrial baixou o índice de natalidade.
Con la Revolución Industrial bajó el índice de natalidad.
- A Revolución Industrial principiou en Rusia co desenvolvemento do ferrocarril.
La Revolución Industrial se inició en Rusia con el desarrollo del ferrocarril.

C Conxunto C

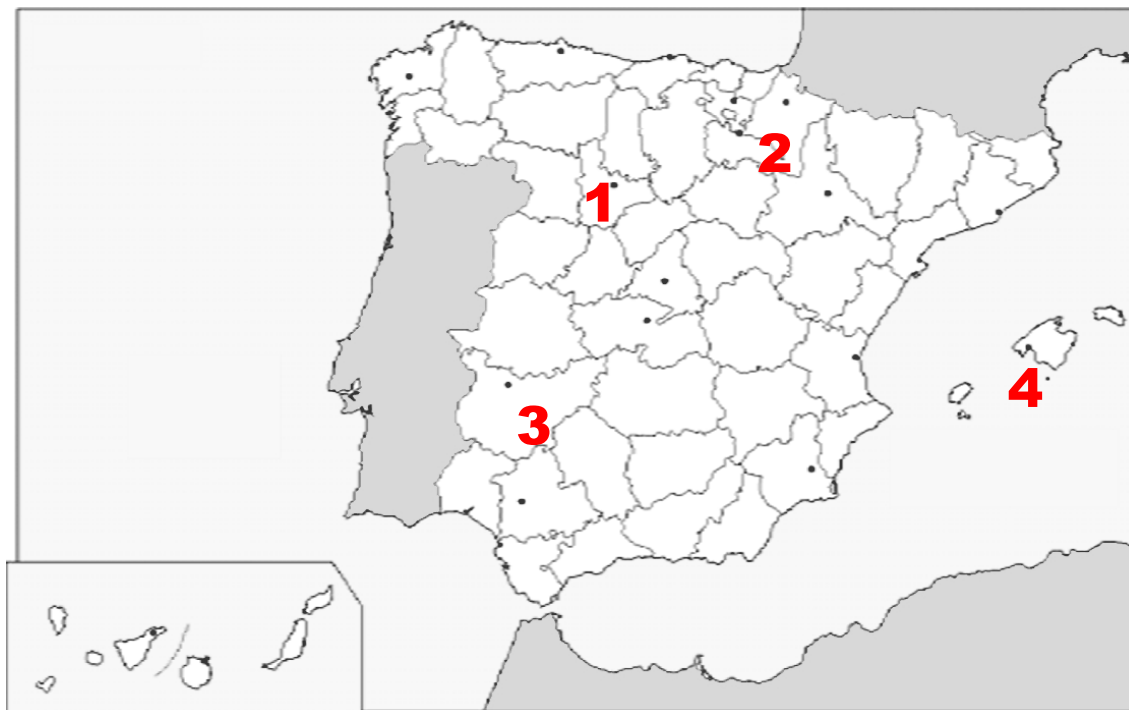
Conjunto C

- Coa Revolución Industrial descendeu a taxa de mortalidade.
Con la Revolución Industrial descendió la tasa de mortalidad.
- Coa Revolución Industrial mantívose un índice de natalidade elevado.
Con la Revolución Industrial se mantuvo un índice de natalidad elevado.
- A Revolución Industrial principiou en Inglaterra co desenvolvemento do téxtil.
La Revolución Industrial se inició en Inglaterra con el desarrollo del textil.



2. Observe o mapa da Península Ibérica e indique as correspondencias correctas.

Observe el mapa de la Península Ibérica e indique las correspondencias correctas.



- A** O número 3 corresponde a Mérida, capital da comunidade autónoma de Castela e León; o número 2 corresponde a Valladolid, capital da comunidade autónoma de Castela-A Mancha; o número 4 corresponde a Palma de Mallorca, capital da comunidade autónoma Balear.

El número 3 corresponde a Mérida, capital de la comunidad autónoma de Castilla y León; el número 2 corresponde a Valladolid, capital de la comunidad autónoma de Castilla-La Mancha; el número 4 corresponde a Palma de Mallorca, capital de la comunidad autónoma Balear.

- B** O número 3 corresponde a Mérida, capital da comunidade autónoma de Extremadura; o número 1 corresponde a Valladolid, capital da comunidade autónoma de Castela e León; o número 2 corresponde a Pamplona, capital da comunidade autónoma de Navarra.

El número 3 corresponde a Mérida, capital de la comunidad autónoma de Extremadura; el número 1 corresponde a Valladolid, capital de la comunidad autónoma de Castilla y León; el número 2 corresponde a Pamplona, capital de la comunidad autónoma de Navarra.

- C** O número 1 corresponde a Mérida, capital da comunidade autónoma de Extremadura; o número 3 corresponde a Valladolid, capital da comunidade autónoma de Castela e León; o número 4 corresponde a Palma de Mallorca, capital da comunidade autónoma Balear.

El número 1 corresponde a Mérida, capital de la comunidad autónoma de Extremadura; el número 3 corresponde a Valladolid, capital de la comunidad autónoma de Castilla y León; el número 4 corresponde a Palma de Mallorca, capital de la comunidad autónoma Balear.



3. Deseguido preséntanse algunhas frases que fan referencia a cuestións económicas. Indique cal é a correcta:

A continuación se presentan algunas frases que hacen referencia a cuestiones económicas. Indique cuál es la correcta:.

A O sector primario é o dedicado á extracción de materias primas. O sector secundario é o que se ocupa da transformación dos recursos naturais. O sector terciario engloba os servizos e a distribución dos produtos industriais.

El sector primario es el dedicado a la extracción de materias primas. El sector secundario es el que se ocupa de la transformación de los recursos naturales. El sector terciario engloba los servicios y la distribución de los productos industriales.

B O sector primario é o que se ocupa da transformación dos recursos naturais. O sector secundario engloba os servizos e a distribución dos produtos industriais. O sector terciario é o dedicado á extracción de materias primas.

El sector primario es el que se ocupa de la transformación de los recursos naturales. El sector secundario engloba a los servicios y la distribución de los productos industriales. El sector terciario es el dedicado a la extracción de materias primas.

C O sector primario engloba os servizos e a distribución dos produtos industriais. O sector secundario é o que se ocupa da transformación dos recursos naturais. O sector terciario é o dedicado á extracción de materias primas.

El sector primario engloba a los servicios y la distribución de los productos industriales. El sector secundario es el que se ocupa de la transformación de los recursos naturales. El sector terciario es el dedicado a la extracción de materias primas.

4. Indique cal das seguintes frases reflicte mellor a rede hidrográfica de Galicia.

Indique cuál de las siguientes frases refleja mejor la red hidrográfica de Galicia.

A Os ríos Xallas e Tambre desembocan no océano Atlántico, e os ríos Sor e Landrove desembocan no mar Cantábrico.

Los ríos Xallas y Tambre desembocan en el océano Atlántico, y los ríos Sor y Landrove desembocan en el mar Cantábrico.

B Os ríos Sor e Landrove desembocan no océano Atlántico, e os ríos Xallas e Tambre desembocan no mar Cantábrico.

Los ríos Sor y Landrove desembocan en el océano Atlántico, y los ríos Xallas y Tambre desembocan en el mar Cantábrico.

C Os ríos Sor e Tambre desembocan no océano Atlántico, e os ríos Xallas e Landrove desembocan no mar Cantábrico.

Los ríos Sor y Tambre desembocan en el océano Atlántico, y los ríos Xallas y Landrove desembocan en el mar Cantábrico.



5. Onde se localizan as taxas máis altas de crecemento natural da poboación do mundo?

¿Dónde se localizan las tasas más altas de crecimiento natural de población del mundo?

A Na Unión Europea, en América do Norte e en Oceanía.

En la Unión Europea, en América del Norte y en Oceanía.

B En África, no Sur de Asia e en América Latina.

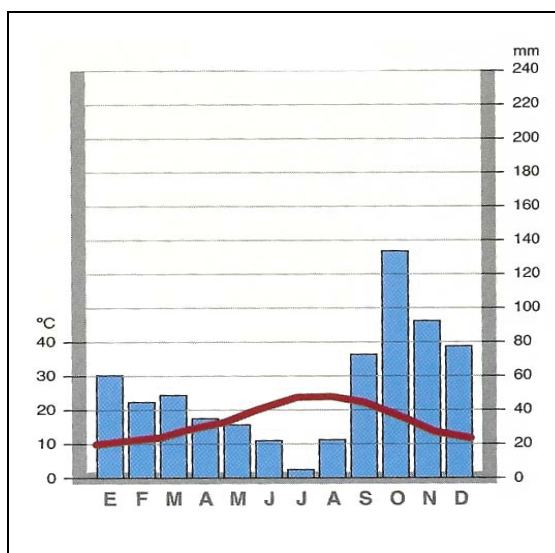
En África, en el Sur de Asia y en América Latina.

C En América do Norte e en África.

En América del Norte y en África.

6. O climograma que se presenta amosa as seguintes características: invernos temperados, veráns calorosos e secos, e as precipitacións máis abundosas concentradas no outono. A que tipo de clima corresponde?

El climograma que se presenta muestra las siguientes características: inviernos templados, veranos calurosos y secos, y las precipitaciones más abundantes concentradas en el otoño. ¿A qué tipo de clima corresponde?



A Oceánico.

B Mediterráneo.

C Tropical monzónico.



7. Observe o mapa físico de Europa e indique a resposta que identifica correctamente os elementos do relevo sinalados cos números.

Observe el mapa físico de Europa e indique la respuesta que identifica correctamente los elementos de relieve señalados con los números.



A Número 1: Balcáns; número 2: Alpes; número 3: Cárpatos; número 4: Montes escandinavos.

Número 1: Balcanes; número 2: Alpes; número 3: Cárpatos; número 4: Montes escandinavos

B Numero 1: Balcáns; número 2: Montes escandinavos; número 3: Alpes; número 4: Cárpatos.

Número 1: Balcanes, número 2: Montes escandinavos; número 3: Alpes; número 4: Cárpatos.

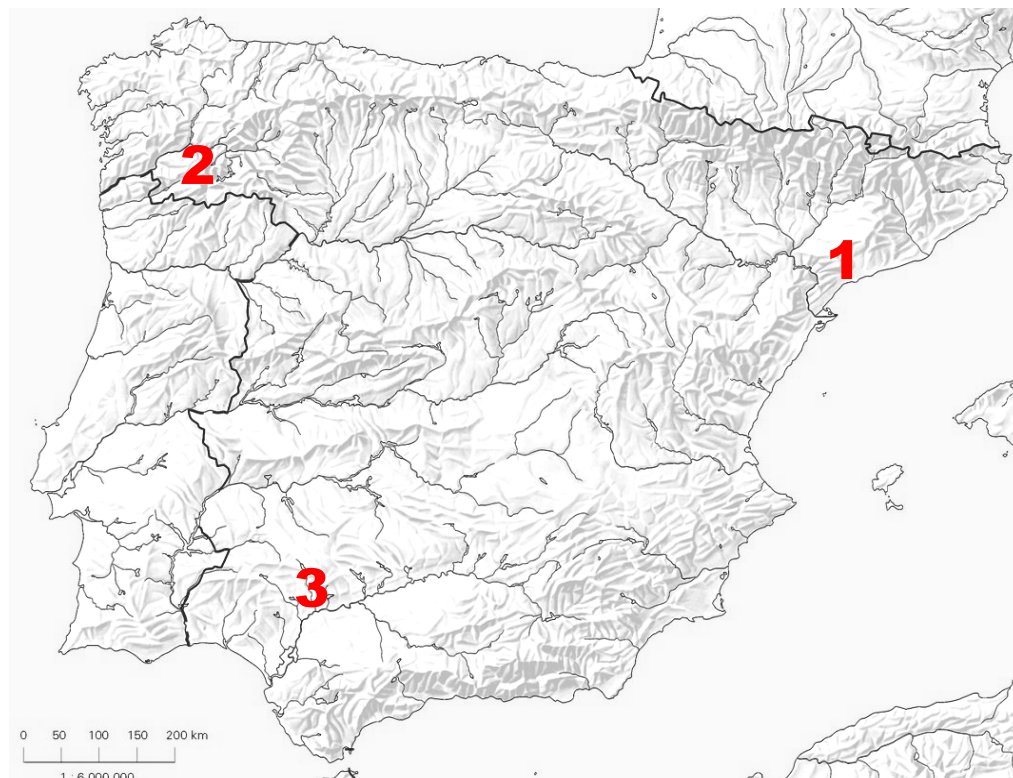
C Número 1: Cárpatos; número 2: Montes escandinavos; número 3: Alpes; número 4 Balcáns.

Número 1: Cárpatos; número 2: Montes escandinavos; número 3: Alpes; número 4: Balcanes.



8. Fixese no seguinte mapa físico de España e indique cal é a resposta correcta.

Fijese en el siguiente mapa físico de España e indique e cuál es la respuesta correcta.



- A** Número 1: Cordal catalán. Número 2: Macizo galaico. Número 3: Serra Morena.
Número 1: Cordillera catalana. Número 2: Macizo galaico. Número 3: Sierra Morena.
- B** Número 1: Serra Morena. Número 2: Macizo galaico. Número 3: Cordal catalán.
Número 1: Sierra Morena. Número 2: Macizo galaico. Número 3: Cordillera catalana.
- C** Número 1: Macizo galaico. Número 2: Serra Morena. Número 3: Cordal catalán.
Número 1: Macizo galaico. Número 2: Sierra Morena. Número 3: Cordillera catalana.



9. Cal é a secuencia correcta en orde cronolóxica dos seguintes períodos da Historia de España?

¿Cuál es la secuencia correcta en orden cronológico de los siguientes períodos de la Historia de España?

A Reinado de Isabel II – Guerra da Independencia – Primeira República.

Reinado de Isabel II – Guerra de la Independencia – Primera República.

B Guerra da Independencia – Reinado de Isabel II – Primeira República.

Guerra de la Independencia – Reinado de Isabel II – Primera República.

C Primeira República – Guerra da Independencia – Reinado de Isabel II.

Primera República – Guerra de la Independencia – Reinado de Isabel II.

10. Sinala a frase que mellor describa o que foi o Imperio Romano.

Señale la frase que mejor describa lo que fue el Imperio Romano.

A Fundado polo emperador Xulio César en 90 a.C., estendeuse por boa parte de Europa e a área mediterránea. Malia desaparecer a finais do século X d.C., doou o seu importante legado á cultura occidental.

Fundado por el emperador Julio César en 90 a.C., se extendió por buena parte de Europa y el área mediterránea. A pesar de desaparecer a finales del siglo X d.C., donó su importante legado a la cultura occidental.

B Fundado polo emperador Augusto en 31 a.C., estendeuse por boa parte de Asia e a área mediterránea. Malia desaparecer a finais do século VIII d.C., doou o seu importante legado á cultura occidental.

Fundado por el emperador Augusto en 31 a.C., se extendió por buena parte de Asia y el área mediterránea. A pesar de desaparecer a finales del siglo VIII d.C., donó su importante legado a la cultura occidental.

C Fundado polo emperador Augusto en 31 a.C., estendeuse por boa parte de Europa e a área mediterránea. Malia desaparecer a finais do século V d.C., doou o seu importante legado á cultura occidental.

Fundado por el emperador Augusto en 31 a.C., se extendió por buena parte de Europa y el área mediterránea. A pesar de desaparecer a finales del siglo V d.C., donó su importante legado a la cultura occidental.



11. A finais do século XIX desenvolveuse o fenómeno que coñecemos por colonialismo. Cal das seguintes frases o define mellor?

A finales del siglo XIX se desarrolló el fenómeno que conocemos por colonialismo. ¿Cuál de las siguientes frases lo define mejor?

A O principal imperio colonial do século XIX foi o británico, aínda que no proceso participaron moitas potencias como Francia, Bélxica, Alemaña, os EEUU e Xapón.

El principal imperio colonial del siglo XIX fue el británico, aunque en el proceso participaron muchas potencias como Francia, Bélgica, Alemania, los EEUU y Japón.

B O principal imperio colonial do século XIX foi o español, aínda que no proceso participaron moitas potencias como Francia, Bélxica, Alemaña, os EEUU e Xapón.

El principal imperio colonial del siglo XIX fue el español, aunque en el proceso participaron muchas potencias como Francia, Bélgica, Alemania, los EEUU y Japón.

C O principal imperio colonial do século XIX foi o francés, aínda que no proceso participaron moitas potencias como o Reino Unido, a China, Alemaña, Turquía e Xapón.

El principal imperio colonial del siglo XIX fue el francés, aunque en el proceso participaron muchas potencias como el Reino Unido, la China, Alemania, Turquía y Japón.

12. Cara ao ano 1900 a arte pictórica virou desde a representación do mundo real á liberdade representativa do universo mental do artista. Sinala a serie que identifica correctamente algúns dos movementos da vangarda artística.

Hacia el año 1900 el arte pictórico cambió desde la representación del mundo real hacia la libertad representativa del universo mental del artista. Señale la serie que identifica correctamente algunos de los movimientos de la vanguardia artística.

A Iluminismo, manierismo e tenebrismo.

Iluminismo, manierismo y tenebrismo.

B Fauvismo, expresionismo e cubismo.

Fauvismo, expresionismo y cubismo.

C Manierismo, fauvismo e tenebrismo.

Manierismo, fauvismo y tenebrismo.



- 13.** O artigo 66 da Constitución española de 1978 di: “As Cortes Xerais exercen a potestade lexislativa do Estado, aproban os seus orzamentos, controlan a acción do Goberno e teñen as demais competencias que lles atribúa a Constitución”. Que poder do Estado exercen?

El artículo 66 de la Constitución española de 1978 dice: “Las Cortes Generales ejercen la potestad legislativa del Estado, aprueban sus presupuestos, controlan la acción del Gobierno y tienen las demás competencias que les atribuya la Constitución”. ¿Qué poder del Estado ejercen?

- A** A potestade de redactar e aprobar as leis.

La potestad de redactar y aprobar las leyes.

- B** A potestade de aplicar as leis.

La potestad de aplicar las leyes.

- C** A potestade de exercer o goberno da Nación.

La potestad de ejercer el gobierno de la Nación.

- 14.** Na segunda metade do século XIX desenvolveuse o pensamento socialista, nomeadamente o anarquismo e o marxismo. Cal era o principal punto de diverxencia ideolóxica entre ambas as correntes de pensamento?

En la segunda mitad del siglo XIX se desarrolló el pensamiento socialista, especialmente el anarquismo y el marxismo. ¿Cuál era el principal punto de divergencia ideológica entre ambas corrientes de pensamiento?

- A** Os marxistas non fundaban partidos políticos, entanto que os anarquistas eran partidarios deles e participaban nas eleccións.

Los marxistas no fundaban partidos políticos, mientras que los anarquistas eran partidarios de ellos y participaban en las elecciones.

- B** Os anarquistas crían no Estado liberal-burgués e os marxistas non.

Los anarquistas creían en el Estado liberal-burgués y los marxistas no.

- C** Os anarquistas querían suprimir o Estado e non crían nos partidos políticos, entanto que os marxistas concibían a toma do Estado como un medio de chegar á sociedade sen clases.

Los anarquistas querían suprimir el Estado y no creían en los partidos políticos, mientras que los marxistas concebían la toma del Estado como un medio de alcanzar la sociedad sin clases.

- 15.** Sinala a cronoloxía correcta que corresponda ao desenvolvemento da Guerra Civil española.

Señale la cronología correcta que corresponda al desarrollo de la Guerra Civil española.

- A** 1914-1918

- B** 1936-1939

- C** 1939-1945



16. Indique a cronoloxía correcta que corresponda ao inicio da Revolución Francesa.

Indique la cronología correcta que corresponda al inicio de la Revolución Francesa.

- A** 1812
- B** 1848
- C** 1789

17. Polos acordos de Maastricht de 1991, a Comunidade Económica Europea converteuse na Unión Europea, ampliando os obxectivos de cohesión dos seus países membros. Que frase define mellor estes obxectivos?

Por los acuerdos de Maastricht de 1991, la Comunidad Económica Europea se convirtió en la Unión Europea, ampliando los objetivos de cohesión de sus países miembros. ¿Qué frase define mejor estos objetivos?

- A** A creación dun mercado sen barreiras.
La creación de un mercado sin barreras.
- B** A consecución dunha unión política, económica e monetaria entre os países membros.
La consecución de una unión política, económica y monetaria entre los países miembros.
- C** A creación dun espazo policial común.
La creación de un espacio policial común.

18. Cal dos seguintes organismos internacionais dependentes da ONU está relacionado coa defensa dos dereitos da infancia?

¿Cuál de los siguientes organismos internacionales dependientes de la ONU está relacionado con la defensa de los derechos de la infancia?

- A** FAO.
- B** UNICEF.
- C** UNESCO.



19. Cales son os países que conforman o Magreb?

¿Cuáles son los países que conforman el Magreb?

A Marrocos, Alxeria e Tunisia.

Marruecos, Argelia y Túnez

B Marrocos, Chad e Níxer.

Marruecos, Chad y Níger.

C Alxeria, Níxer e Namibia.

Argelia, Níger y Namibia.

20. Identifique cal das seguintes institucións forma parte da Administración autonómica de Galicia

Identifique cuál de las siguientes instituciones forma parte de la Administración autonómica de Galicia.

A Concellos.

Ayuntamientos

B Deputacións provinciais.

Diputaciones provinciales.

C Parlamento de Galicia.

Parlamento de Galicia.



3. Solución para as preguntas tipo test

Nº	A	B	C	
1			X	
2		X		
3	X			
4	X			
5		X		
6		X		
7			X	
8	X			
9		X		
10			X	
11	X			
12		X		
13	X			
14			X	
15		X		
16			X	
17		X		
18		X		
19	X			
20			X	
Nº de respostas correctas (C)				
Nº de respostas incorrectas (Z)				
Puntuación do test = $C \times 0'5 - Z \times 0'125$				

Nas preguntas de test, por cada resposta incorrecta descontaranse 0'125 puntos. As respostas en branco non descontarán puntuación.